

平成29年度  
入学試験問題

社 会

2月1日 午前

受験番号	氏 名

中村中学校



- ① 中村花子さんは春休みに次のパンフレットにあるコースで旅行することとしました。これについて、あとの問いに答えなさい。

さんいん さんよう 景色・食事・おんせん  
山陰・山陽 景色・食事・温泉に大満足の旅！  
いさん  
世界遺産にもご案内／新幹線・航空機をチョイス！

1	東京～（新幹線または航空機）～①岡山～（特急）～（②） ＜国宝・（②）城＞～玉造温泉ご宿泊
2	玉造温泉～③宍道湖＜車窓より＞～出雲大社＜参拝（専門ガイド がご案内）・ご縁横丁などを散策＞～昼食（出雲そば食べ放題）～ ④石見銀山《世界遺産》～⑤萩温泉郷ご宿泊
3	萩温泉郷～萩城城下町（明治維新志士たちゆかりの地）～⑥カル スト地形＜車窓より＞～秋芳洞（鍾乳石・石灰岩の造形美）～ 宮島口～安芸の宮島《世界遺産》＜厳島神社参拝＞～⑦広島＜原 爆ドーム《世界遺産》など＞～（新幹線または航空機）～東京

〔問1〕下線部①「岡山」県についての説明として正しいものを、次のア～エより1つ選び、記号で答えなさい。

ア. 面積・人口とも、中国・四国地方の中では第1位となっており、県内には2つの政令指定都市がある。

イ. 倉敷市の水島地区は、干拓地や埋め立て地を利用して石油化学コンビナートや製鉄所が建設され、県の重要な産業となっている。

ウ. 農業では瀬戸内の雨が多く寒冷な気候を生かして、ぶどう・ももなどくだものの生産がさかんに行われている。

エ. 伝統的工芸品として、右の写真にある有田焼が有名である。



〔問2〕（ ② ）にあてはまる、島根県の県庁所在地名を漢字で書きなさい。

〔問3〕下線部③の「宍道湖」はしじみが多くとれる湖として知られている。次の地図は日本でしじみが多くとれる場所を示したものである。では、しじみが多くとれる場所の特徴を簡単に説明しなさい。



〔問4〕下線部④の「石見銀山」は2007年に世界遺産に登録された。これに関連して、世界遺産の登録が審議・検討される国際機関のシンボルマークとして正しいものを、次のア～エより1つ選び、記号で答えなさい。

ア.



イ.



ウ.



エ.



〔問5〕下線部⑤の「萩」に関連して、この地は他の7県に点在する地域とともに、2015年に世界遺産に登録された。登録された理由として正しいものを、次のア～エより1つ選び、記号で答えなさい。

ア. 大陸とつながったことがなく、島にたどり着いた生物だけが独自に進化した特異な生態系が見られるから。

イ. 16～17世紀にかけて、大量の銀が生産され、アジアだけでなくヨーロッパの国々と経済的・文化的な交流をもたらしたから。

ウ. 明治日本の近代化及び産業革命において、短期間で飛躍的な経済的發展を成しとげる原動力となったから。

エ. 日本における近代建築運動へ大きく貢献したから。

〔問6〕下線部⑥の「カルスト地形」は、地表に露出した石灰岩が二酸化炭素を含んだ雨水によって浸食されてできた地形である。この地形が見られる地域の名前として正しいものを次のア～エより1つ選び、記号で答えなさい。


ア. 根釧台地

イ. 秋吉台

ウ. 野辺山原

エ. 牧ノ原

〔問7〕下線部⑦の「広島」について、以下の各問いに答えなさい。

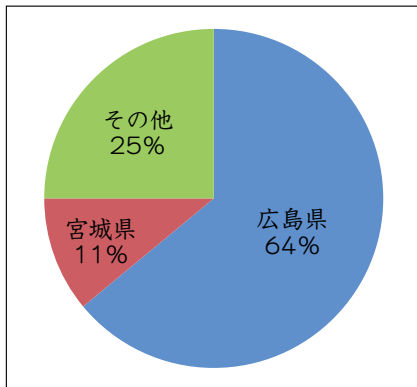
(1) 次の写真は広島市中心部のものである。にみられる地形を何というか、答えなさい。



(宇宙航空研究開発機構だいちから見た  
日本の都市より)

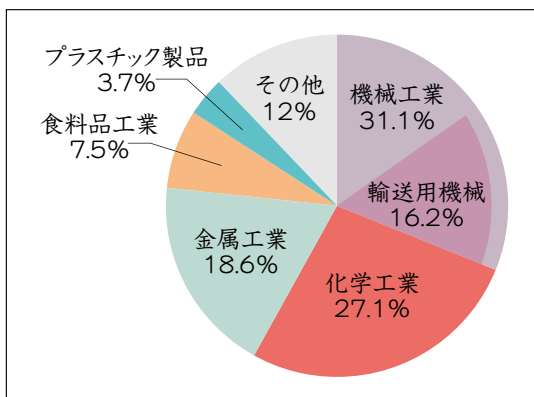
(2) 次のグラフを参考にして、広島県に関連する説明として誤<sup>あやま</sup>っているものを、あとのア～エより1つ選び、記号で答えなさい。

<養しよくかきの産地（2014年）>



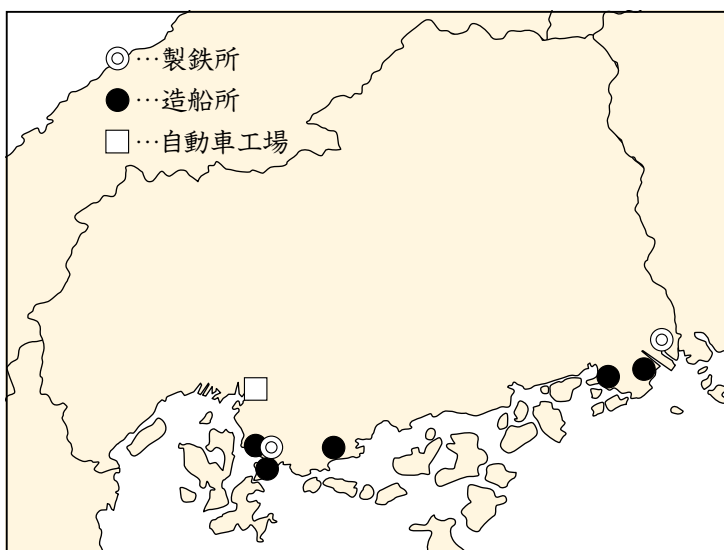
(農林水産省資料より作成)

<瀬戸内工業地域の工業出荷額のうちわけ（2013年）>



(経済産業省資料より作成)

<主な工場のあるところ>



(やのつねた 矢野恒太記念会『日本のすがた2016』などより作成)

<本州と四国の間の移動時間>

<div>交通手段</div> <div> <div>区间</div> </div>	フェリー	自動車 (連絡橋利用)
神戸～徳島	270分	100分
倉敷～坂出	120分	40分
尾道～今治	160分	60分

(本州四国連絡高速道路株式会社 資料より)

- ア. 漁業では、穏やかな潮の流れや水温がかきの養しよくに適しており、その生産量は全国で1位である。
- イ. 瀬戸内工業地域における機械工業のうち、約半分が輸送用機械の生産である。
- ウ. 広島県における主要な産業である自動車・鉄鋼・造船業は、どれも県内全域でさかんに生産されている。
- エ. 尾道から瀬戸内海を渡る連絡橋が整備され、陸路で四国に渡ることができるようになった。これにより、本州からの移動時間は半分以上に減った。



〔問８〕中村花子さんが選んだこの旅行プランは、交通手段によって料金の設定が異なっている。次の表を参考にして、それぞれの交通手段を選んだ場合の利点を説明しなさい。

	新幹線		航空機		
	(東京駅発・のぞみ号利用)		(羽田空港発 <sup>※２</sup> )		
	料金	所要時間 <sup>※１</sup>	料金	所要時間 <sup>※３</sup>	空港から市内まで
岡山	17,340円	3時間25分	33,990円	1時間15分	バス 30分
広島	18,040円	3時間53分	34,890円	1時間25分	バス 45分

※１ 新幹線の岡山・広島駅は、市の中心部にあるものとする。

※２ 東京駅から羽田空港までの交通

鉄道利用：35分      バス利用：25～45分

※３ 搭乗<sup>とうじょう</sup>前の手荷物検査等の時間は含まないものとする。

〔問９〕山陰・山陽地方のうち、この旅行プランで訪問・見学のために訪<sup>おもとず</sup>れていない県を、解答らんの地図より１つ選び、塗りつぶしなさい。

〔問１０〕山陰地方では過疎化<sup>かそか</sup>が進行している。過疎化への対策として地方公共団体がやっていることとして誤っているものを、次のア～エより１つ選び、記号で答えなさい。

ア. ふるさと納税<sup>のうぜい へんれい</sup>の返礼品として、高級で人気の高い特産品を用意する。

イ. 他の都道府県からの移住を進め、土地や家を安い価格<sup>ていきょう</sup>で提供する。

ウ. 特産品となる農作物の品質を高め、地域ブランド化<sup>はんばい</sup>して販売する。

エ. 政府に地方交付税<sup>こうふ</sup>交付金を多く配分してもらい、住民税を安くする。

② 次の文章を読んで、あとの問いに答えなさい。

① 中国の神話には4つの方位を  
まも<sup>しじん</sup>護る「四神」がでてきます。具体的  
には、東の守り神は文字通り竜<sup>りゅう</sup>を  
表した青竜<sup>せいりゅう</sup>・南は鳥の朱雀<sup>すざく</sup>・西は  
細長い体をした虎の白虎<sup>びゃっこ</sup>・北は足  
の長い亀が蛇に巻き付いている玄武<sup>げんぶ</sup>  
となっています。この神話にあやかっ  
て、中村中学校がある江東区<sup>こうとう</sup>にも四  
神が配置されているのを皆さんはご  
ぞん<sup>みな</sup>存じですか？ 青竜は東大島駅前<sup>ひがしおおじま</sup>  
のロータリーに、朱雀は若洲公園<sup>わかす</sup>に、  
白虎は② 豊洲シビックセンター<sup>とよす</sup>に、  
玄武は亀戸駅前公園<sup>かめいど</sup>にあり、江東区はこれら四神によって護られているということと  
なります。

<青竜>



<朱雀>



<白虎>



<玄武>



これ以外にも、1972年に③ 奈良県で発見された高松塚古墳<sup>たかまつづか</sup>の石室<sup>へきが</sup>の壁画に四神  
が描かれていたり、江戸時代の会津藩<sup>あいづはん</sup>では年齢別に50歳以上を玄武隊<sup>さい</sup>、36～49  
歳までが青竜隊、18～35歳までを朱雀隊、17歳以下が白虎隊として軍の部隊が  
編成されたりしています。特に白虎隊については、④ 1868～69年にかけて起こっ  
た戊辰戦争<sup>ぼしん</sup>で非業<sup>ひごう</sup>の死<sup>と</sup>を遂げたことで有名です。

さて、時はさかのぼって平安時代のお話です。⑤ 桓武天皇<sup>かんむ</sup>は都を移す際、四神相  
応<sup>おう</sup>の地ということで794年に□Aの場所を選んだと言われています。どの山や  
川、道が四神とされているのかは諸説<sup>しよせつ</sup>ありますが、少なくとも、⑥ 鎌倉時代に成立  
した□Bには「この地を見てみると、左青竜・右白虎・前朱雀・後玄武、四神相  
応の地である。もっとも都とするにふさわしい場所である」と記されています。桓武  
天皇はそういった四神を意識しながら、場所を選定し、□Aの町をつくっていきま  
した。

また、四神のように方位を大切にする考え方は他にもあり、中国から入ってきて日

本で独自の進化を遂げた「鬼門、裏鬼門思想」というのもその1つです。鬼門は北東を指し、鬼が出入りするよくない方角とされています。一方、真逆の南西は裏鬼門とされ、こちらも忌み嫌われる方角となっています。実際、日本の町づくりには欠かせない思想で、平城京では鬼門の方向に東大寺、裏鬼門の方向に植槻八幡宮があります。□A□では鬼門に⑦比叡山延暦寺、裏鬼門に石清水八幡宮が、鎌倉では鬼門に荏柄天神社、裏鬼門に夷堂が、江戸では鬼門に寛永寺、裏鬼門に増上寺が置かれたと言われています。実際この思想は現代にも根強く残っており、鬼門の方角に柵や南天を植えたり、玄関や水回りを避けた間取りにしたりするなど、工夫された建築様式が今でも見られます。

〔問1〕文中の空らん□A□・□B□にあてはまる語句を答えなさい。ただし、空らん□B□には鎌倉時代につくられ、琵琶法師によって語り広められた軍記物が入る。

〔問2〕下線部①の「中国」との関係の説明として正しいものを、次のア～エより1つ選び、記号で答えなさい。

- ア. 日米修好通商条約と同様の条約を中国と結び、その改正が近代日本の課題となった。
- イ. 日清戦争で勝利した日本は中国とポーツマス条約を結び、多額の賠償金を得た。
- ウ. 柳条湖郊外で関東軍が南満州鉄道を爆破した事件をきっかけに米騒動が起こった。
- エ. 内閣総理大臣田中角栄が中国を訪れ、日中共同声明に調印して中国との国交が回復した。

〔問3〕下線部②の「豊洲シビックセンター」は、江東区の出張所をはじめ、文化センターや図書館がある複合的な施設である。このような施設の設置は行政サービスの一環と考えられるが、こういった施設の建設以外で考えられる、これからの江東区が行うべき行政サービスを次の表の他の区や市のデータを参考に説明しなさい。

	江東区	東京都 A区	東京都 B市	千葉県 C市	群馬県 D市
人口増減率(%)※ <sup>1</sup>	109.5	112.8	104.1	106.2	101.7
外国人人口数(人)	24,329	2,554	3,563	3,247	4,343
1人当たりの 都市公園総面積(m <sup>2</sup> )	4.50	5.44	9.34	6.01	26.01
乳幼児・ 子ども医療費助成 対象年齢	中学校卒業 まで自己負 担なし	18歳3月 末まで自己 負担なし	中学校卒業 まで ※小中は一 部自己負担 あり	中学校卒業 まで ※小中は一 部自己負担 あり	中学校卒業 まで自己負 担なし
人口1万人当たりの 一般病床数(床)	49.91	316.51	78.14	67.00	59.74
65歳以上の人口 100人当たりの老 人ホーム定員数(人)	2.13	1.47	3.08	3.16	3.21
保育所待機児童数 (人)	167	0	183	29	0
教育用コンピュータ 1台当たりの児童数 (人)	18.7	2.1	16.3	8.1	5.7

※1 2005年を100%とし、2010年との比較で算出

(「生活ガイド行政情報」ホームページより作成 2016年11月現在)

〔問4〕下線部③に関連して、以下の各問いに答えなさい。

(1) 古墳に関する説明として正しいものを次のア～エより1つ選び、記号で答えなさい。

<写真A>



ア. 古墳のまわりや上には、写真Aのような土偶と呼ばれる土器が並べられた。

イ. 日本でもっとも大きい大仙陵古墳はヤマト政権のあった関東地方にある。

ウ. 日本で多い古墳の形は、写真Bのような円墳である。

<写真B>



エ. 仏教の伝来とともに火葬が増え、古墳は消滅していった。

(2) 高松塚古墳の保存管理を行っているのは文化庁である。この文化庁は教育をはじめ、文化や科学技術、あるいはスポーツの振興を担当する省のもとに置かれた機関であるが、この省として正しいものを次のア～エより1つ選び、記号で答えなさい。

ア. 文部科学省

イ. 厚生労働省

ウ. 国土交通省

エ. 経済産業省

〔問5〕下線部④に関連して、「戊辰戦争」やその前後に関する説明の正誤を判定し、その正しいものの組み合わせを、あとのア～エより1つ選び、記号で答えなさい。

A. 15代将軍徳川吉宗が朝廷から政権を取り返す大政奉還を行った。

B. 旧幕府軍は函館の五稜郭にたてこもって抵抗したが、新政府軍に鎮圧された。

C. 新政府は江戸幕府が進めてきた四民平等の方針を否定した。

D. 新政府は明治天皇が神に誓うという形で五ヶ条の誓文を発表した。

ア. AとC

イ. AとD

ウ. BとC

エ. BとD

〔問6〕下線部⑤の「桓武天皇」が行った政策として正しいものを、次のア～エより1つ選び、記号で答えなさい。

- ア. 坂上田村麻呂を征夷大將軍に任命して蝦夷平定に努めた。
- イ. 天皇の位を皇子に譲り、上皇としてはじめて院政を行った。
- ウ. 摂政の聖徳太子とともに憲法十七条を発布した。
- エ. 総国分寺である東大寺に大仏をつくるように命じた。

〔問7〕下線部⑥に関連して、鎌倉時代に成立した宗派と開いた僧侶、またはその特色の組み合わせとして正しいものを、次のア～エより1つ選び、記号で答えなさい。

- ア. 浄土真宗 – 坐禅によって悟りを開く
- イ. 臨済宗 – 栄西
- ウ. 日蓮宗 – 踊念仏によって教えを広める
- エ. 曹洞宗 – 空海

〔問8〕下線部⑦の「比叡山延暦寺」の場所と、延暦寺を本山とする宗派の組み合わせとして正しいものを、あとのア～エより1つ選び、記号で答えなさい。



ア. A－天台宗

ウ. B－天台宗

イ. A－時宗

エ. B－時宗

〔問9〕 次の写真は、下の地図の赤で囲んだ京都御所を矢印の方向から撮ったものである。「猿が辻」と呼ばれるこの場所は、角がへこんだ一風変わった塀となっている。なぜこのような塀にしたと考えられるか、本文の内容に即して説明しなさい。





