

2023年度  
入学試験問題

社 会

2月1日 午前

| 受験番号 | 氏 名 |
|------|-----|
|      |     |

中村中学校

1 清香さんと直子さん、明美さんが修学旅行について話しています。  
これを読んで、あとの各問いに答えなさい。

明美：私は最初に行った巖島①神社に感激したわ。海の上にあるのに千年近くも形がそのままなんて本当にすごいと思った。

清香：仕方ないことなのだけれど、私がいちばん見たかった海の中の鳥居が、工事中でカバーがかかっている見えなかったのは残念だったわ。記念に写真だけ撮ったけれど。

直子：修学旅行に行く前に原爆ドームについてもいろいろ勉強したけれど“百聞は一見に如かず”で、やはり現地で実際のものに触れることの大切さが分かったわ。

明美：広島から京都まで乗った新幹線から「マスカット王国岡山」っていう看板が見えたけれど、マスカットはぶどうの品種だったよね。

清香：岡山県は②ぶどうの生産が都道府県別で全国第4位なのよ。

直子：岡山周辺って瀬戸内の気候の特色を示す地域だから意外に雨が少ないのよね。

清香：③山陽新幹線は、日本で最初に時速300kmで走行した路線なんだけど、乗ってみると速さを実感したわ。

直子：世界遺産の姫路城もちらっと見えたけど、あっという間に通り過ぎてしまったわ。

明美：新神戸のあたりもトンネルだらけで何も見えなかったのが残念だったわ。私は授業で習った④神戸港や新しくできた⑤神戸空港、北野の異人館とか見えると思っていたんだけど。

清香：神戸の町は六甲山地と海に挟まれた狭い場所で発展したから、町の中に駅をつくることができなかったのよ。

直子：新大阪に近づいたら海の方にクレーンや煙突がたくさん見えて、

⑥ 阪神工業地帯って分かったわ。兵庫県、大阪府に広がっている工業地帯なのよね。

明美：阪神工業地帯って第二次世界大戦前は日本で有数の工業地帯だったのよ。今では他の工業地域と生産額があまり変わらなくなっているけれど。

清香：阪神工業地帯って金属工業の割合が比較的高いのよね。それに中小工場も多い。

直子：私は⑦ 中国地方と近畿地方に行くことが初めてだったのだけれど、近畿地方は中国地方に比べて家が多く感じたわ。

明美：今回一体いくつの世界遺産を見たのだろう。

直子：お寺とかもひとつひとつ数えると、10以上の世界遺産を確実に見たはずよ。

清香：平和と日本文化についてたくさん学んだ修学旅行だったわ。

明美：またみんなで行きたいな。

〔問1〕下線部①の「神社」の地図記号を、清香さんのことばと資料1を参考にして答えなさい。

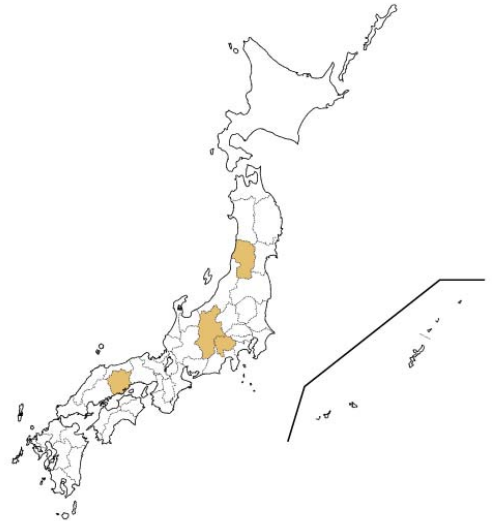
<資料1> 巖島神社の写真



〔問 2〕 下線部②に関連して、ぶどうの生産量が全国第 1 位～第 4 位の都道府県を示している図として正しいものを、次のア～エより 1 つ選び記号で答えなさい。他はかき類、<sup>けいらん</sup>鶏卵、まつたけの生産量が多い都道府県を示しています。

ア.

イ.



ウ.

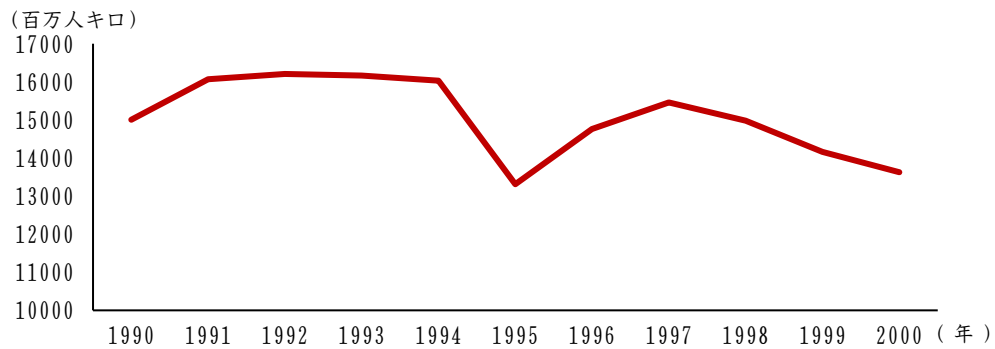
エ.



(2020年 矢野恒太記念会『日本国勢図会2022/23』『データ  
でみる県勢2022』より作成)

〔問3〕下線部③の「山陽新幹線」に関連して、資料2は1990年～2000年の山陽新幹線の乗客数の移り変わりを示したものです。1995年度（1994年4月～1995年3月）の乗客数が急激に減少している原因となった自然災害として正しいものをあとのア～エより1つ選び、記号で答えなさい。

＜資料2＞ 山陽新幹線の乗客数の移り変わり

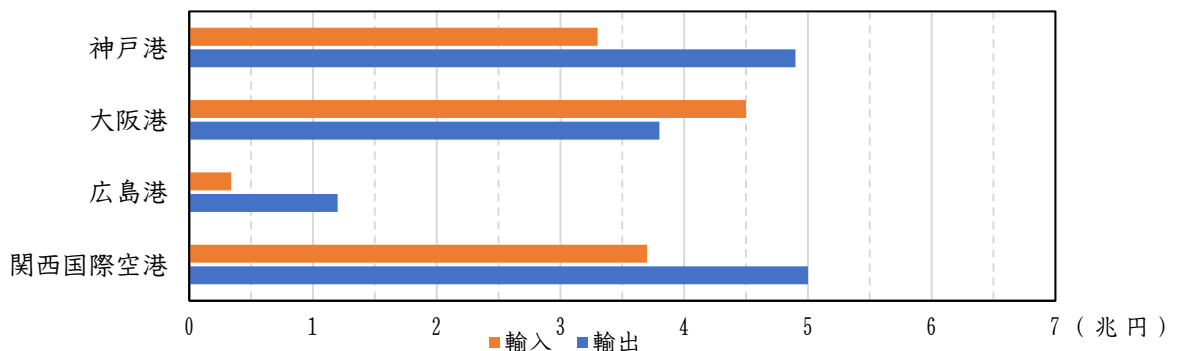


(西日本旅客鉄道株式会社ホームページより作成)

- ア. 噴火                      イ. 台風                      ウ. 地震                      エ. 洪水

〔問4〕下線部④の「神戸港」に関連して、資料3は神戸港を含む中国地方・近畿地方の主要港の貿易額を示しています。資料3から読み取れる赤字の港を1つ選び漢字で答えるとともに、赤字額として最も近い数値を1つ選び、解答らんの数字に○をつけて答えなさい。

＜資料3＞ 中国地方・近畿地方の主要港の貿易額



(2020年矢野恒太記念会『日本国勢図会2022/23』より作成)

〔問5〕下線部⑤の「神戸空港」に関連して、神戸空港のように人工島に空港をつくる利点を、資料4の神戸空港と資料5の伊丹空港<sup>い ちみ</sup>の写真を参考にして答えなさい。

<資料4> 神戸空港の写真

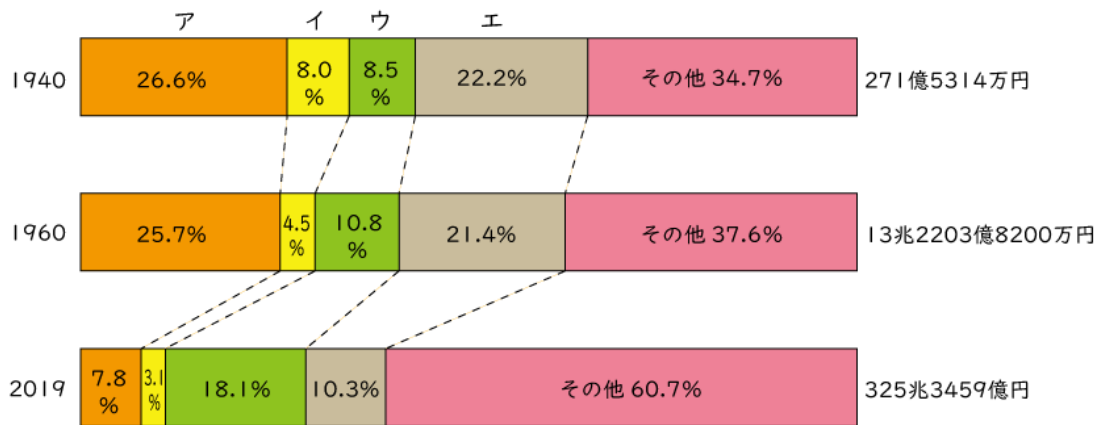


<資料5> 伊丹空港の写真

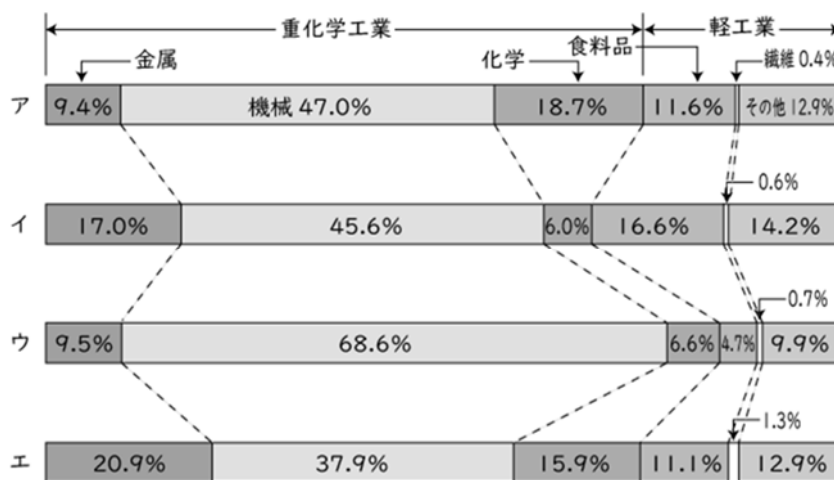


〔問 6〕下線部⑥の「阪神工業地帯」に関連して、北九州、阪神、中京、  
 京<sup>けい</sup>浜<sup>ひん</sup>の各工業地帯についての資料 6・資料 7 のア～エから、阪神工業地帯にあたるものを 1 つ選び、記号で答えなさい。なお資料 6 のア～エと資料 7 のア～エは同じ工業地帯を示しています。ただし、北九州工業地帯は福岡県、阪神工業地帯は大阪府、兵庫県、中京工業地帯は愛知県、三重県、京浜工業地帯は東京都、神奈川県を示しています。

< 資料 6 > 日本の工業生産額と各工業地帯の割合と移り変わり



< 資料 7 > 各工業地帯の工業出荷額のうちわけ



(経済産業省『工業統計』／矢野恒太記念会『日本国勢図会』2022  
 / 23より作成)

〔問7〕下線部⑦の「中国地方・近畿地方」に関連した、あとの問いに  
答えなさい。

(1) 図のア～エは中国地方・近畿地方の一部の府県の形と府県庁所在地の位置を●で示したものです。府県名と府県庁所在地名が同じものを下の図のア～エより1つ選び、記号で答えなさい。図の実線は海岸線を、点線は府県境を示しています。図の上が北になっています。縮尺は同じではありません。

ア.



イ.



ウ.



エ.





(2) 資料8は中国地方・近畿地方の一部の府県を示したものです。

資料8の府県で滋賀県にあたるものをア～カより1つ選び、記号で答えなさい。

<資料8> 中国地方・近畿地方(一部)の府県

| 府県名 | 面積<br>km <sup>2</sup> /<br>2020年 | 人口<br>千人/<br>2020年 | 政令<br>指定<br>都市数 | 海面漁業<br><small>ぎょかく</small><br>漁獲量<br>t/<br>2019年 | 内水域*<br>面積<br>km <sup>2</sup> /<br>1982年 |
|-----|----------------------------------|--------------------|-----------------|---------------------------------------------------|------------------------------------------|
| ア   | 4,612                            | 2,578              | 1               | 8,558                                             | 44                                       |
| イ   | 8,480                            | 2,800              | 1               | 13,933                                            | 26                                       |
| ウ   | 3,507                            | 553                | 0               | 82,079                                            | 24                                       |
| エ   | 4,017                            | 1,414              | 0               | -                                                 | 563                                      |
| オ   | 3,691                            | 1,324              | 0               | -                                                 | 18                                       |
| カ   | 7,114                            | 1,888              | 1               | 3,232                                             | 22                                       |

\*内水域…川や湖など

(矢野恒太記念会 『日本国勢図会』2022/23 『データでみる  
県勢2020』)より作成)

2 次の文章を読んで、あとの各問いに答えなさい。

科学や医療が現在ほど発展していない時代の人々にとって、災害や病気はとても不思議なできごとでした。科学では説明できない、超自然的な現象や存在のことを「妖怪」と呼んできました。昔の人は、こうした超自然的な出来事が起こるたびに妖怪のしわざとして理解していたようです。

古くから日本には、自然のあらゆるものに神が宿る「八百万の神」の考え方があります。昔話で、大嵐の山を見たお爺さんが「ああ、山の神様がお怒りじゃ……」とつぶやいているのは、山には山の神が宿っていると考えられていたからです。このように、①縄文時代以前より人々は自然を恐れうやまい、まじないによって生きてきました。妖怪と神様はかなり近い存在で、嵐や地震などの直接的に恐ろしい出来事には「神様」、目に見えない恐怖には「妖怪」と区別していました。

日本最古と言われている妖怪は、②奈良時代に編纂された『古事記』に登場するヤマタノオロチ（大蛇）と考えられています。『古事記』によれば、勇敢な若者がヤマタノオロチを打ち倒し、その尾から③三種の神器の1つとなる天叢雲剣が出てきたことが記されています。鎌倉時代に描かれた『北野天神縁起絵巻』には、赤い肌はだに金色の髪かみ、牛の角を生やした④鬼の姿が見られます。もともとは、「この世ならざるもの」という意味の「隠」と呼ばれ、そこから「鬼」という名前への変わっていったと言われています。正体不明の存在であった鬼が、姿を現して昔話などで見る鬼のイメージになったのは、陰陽道や⑤仏教による影響が強かったとされています。

⑥江戸時代の後半に入ると、灌漑用水の発達と長い⑦鎖国にともない内陸の河や湖へ目が向けられたことによって河童にまつわるエピソード

ドが多く語られるようになりました。そのうちの1つが東京都台東区曹源寺に墓所がある喜八のエピソードです。今から約180年前の文化年間、雨合羽商人であった喜八は新堀川の洪水被害を見かね、私財を投じて水はけ工事（1804年～17年）を行いました。その工事のおり、かつて喜八に命を助けられた隅田川の河童が協力したといわれ、この河童を見たものは不思議と商売が繁盛したと伝えられています。曹源寺はのちに「かっぱ寺」とも呼ばれ、商売繁盛・火水難除などに御利益があり、今も厚い信仰が寄せられています。

現在知られている妖怪たちに、はっきりした姿をあたえたのは、⑧江戸時代の画家鳥山石燕だと考えられており、彼が描いた妖怪画は200点以上にものぼるとされています。現代においても、アニメや漫画で多種多様な妖怪たちが親しまれています。

〔問 1〕 下線部①に関連して、縄文時代の様子として正しいものをあとのア～エのうちから1つ選び、記号で答えなさい。

ア．人びとは、周囲を土偶で囲んだ環濠集落に住んでいた。

イ．祭りの道具（祭器）として、埴輪が用いられた。

ウ．古墳のまわりや頂上には、青銅器がおかれた。

エ．おもに食べ物を煮炊きするために、土器が作られた。

〔問2〕下線部②の「奈良時代」の政策について述べた文A・Bについて、その正誤の組合せとして正しいものをあとのア～エより1つ選び、記号で答えなさい。

- A 聖武天皇が国ごとに国分寺と国分尼寺こくぶん にじを建てるよう命じた。  
B 新しく開墾かいこんした土地を永久に私有することを認める三世一身の法が定められた。

- ア. A - 正 B - 正                      イ. A - 正 B - 誤  
ウ. A - 誤 B - 正                      エ. A - 誤 B - 誤

〔問3〕下線部③の「三種の神器」になぞらえて、1950年代後半から家庭に普及ふくした家電製品きやう（三種の神器）として正しいものを次のア～エより1つ選び、記号で答えなさい。

- ア. 乗用車                                  イ. クーラー  
ウ. 電気冷蔵庫                          エ. カラーテレビ

〔問4〕下線部④に関連して、資料1には遣唐使けんとうしとして中国に渡った阿部仲麻呂あべの なかまろが鬼になった姿が描かれています。鬼の姿に変わった原因について資料2～資料4を参考にして20字以内で説明しなさい。

<資料1> 阿部仲麻呂の鬼化



(吉備真備入唐絵巻)

<資料2> 人間が鬼になる理由

裏切りによる嫉妬や恨み、人生に後悔を残してこの世を去った（亡くなった）あと、人間としての精神を保つことができずに鬼に変化すると考えられている。鬼に変化するのには、恨みを晴らすためとする例が多く、いずれも人間的な感情から生まれるものである。

(八木 透『日本の鬼図鑑』より作成)

<資料3> 阿倍仲麻呂の生涯

| 年号   | できごと                                         |
|------|----------------------------------------------|
| 717年 | 吉備真備とともに、遣唐使として唐の都長安に留学する。                   |
| 734年 | 帰国の許可が下りなかった。吉備真備は帰国を果たす。                    |
| 752年 | 帰国の許可が下り、和歌（<資料4>）を詠んだ。<br>船が暴風雨に遭い、帰国を断念する。 |
| 770年 | 長安にて73歳で亡くなる。                                |

<資料4> 阿部仲麻呂が詠んだ和歌（現代語訳）

広い空を振り仰いで眺めると、美しい月が出ているが、あの月はきっと故郷である春日の三笠の山\*に出た月と同じ月だろう。

\* 三笠の山…奈良市春日山の一部

〔問5〕下線部⑤について、仏教に関するできごとを古い順に正しく並びかえたものをあとのア～エより1つ選び、記号で答えなさい。

- A 聖徳太子は、仏教を深く信仰し飛鳥に法隆寺を建てた。
- B 唐に留学した空海は真言宗を開き、高野山に金剛峯寺を建てた。
- C 時宗を開いた一遍は諸国を歩き、踊り念仏を広めた。
- D 行基は、聖武天皇の命を受け東大寺の大仏造りに参加した。

ア. A → D → B → C

イ. A → C → D → B

ウ. C → A → B → D

エ. C → B → D → A

〔問6〕下線部⑥に関連して、次の文中の空らん  にあてはまる語句を答えなさい。

1854年アメリカのペリーが浦賀に入港しました。幕府はアメリカの態度におされて  条約を結び、下田・函館を開港しました。

瓦版や錦絵で右の図のようなペリーの似顔絵がいくつも描かれました。鬼のような顔、鷹の爪の手などさまざま、いずれも人間の姿ではありません。庶民が外国人と接触しないようにペリーは恐ろしいと思わせたという説があります。



(下田開国博物館 公式ホームページより作成)

〔問7〕下線部⑦について、江戸時代の鎖国下に開かれた4つの窓口の説明として正しいものを次のア～エより1つ選び、記号で答えなさい。

- ア. 対馬藩の仲介で、將軍の交代ごとに朝鮮通信使が江戸に来るようになった。
- イ. オランダとは平戸の出島で、中国とは釜山の唐人屋敷で貿易をおこなった。
- ウ. シヤクシャインの戦いに敗れた松前藩は、アイヌと交易する権利を失った。
- エ. 朝鮮を侵略した薩摩藩は、検地をおこなって高い年貢を取り立てた。

〔問8〕下線部⑧について、資料5を描いた人物として正しいものをあとのア～エより1つ選び、記号で答えなさい。

<資料5> 浮世絵



(東京国立博物館蔵)

- ア. 歌川広重    イ. 菱川師宣    ウ. 喜多川歌麿    エ. 葛飾北斎

3 ロシアによるウクライナへの侵攻<sup>しんこう</sup>がはじまってからもうすぐ1年が経ちます。次の文章は、昨年3月に江東区の区長が出した声明です。これを読んで、あとの各問いに答えなさい。

2月24日、ロシアはウクライナへの軍事侵攻を行いました。

このことは、国際社会ひいては我が国の平和と秩序<sup>ちつじょ</sup>、安全<sup>おびや</sup>を脅かし、明らかに①国連憲章<sup>いほん</sup>に違反する行為であり、断じて容認できるものではありません。

また、ロシアのプーチン大統領が「ロシアは最も強力な核保有国の一つだ」と発言したことは、各国の安全保障を脅かすだけでなく、広島、長崎における被爆者<sup>ひばく</sup>の方々の平和への思いや、核兵器が二度と使用されることはあってはならないという思いを踏みにじるものであり、強い憤り<sup>いきどお</sup>を覚えます。

②江東区では、昭和20年3月9日夜半から10日未明における、東京大空襲によって町全体が焼失し、③多くの尊い命と財産が失われました。それゆえ、平和を希求する江東区民の願いは一段と強いものがあり、昭和61年には日本国憲法<sup>こっくわ</sup>が掲げる恒久平和の理念と非核三原則の堅持を強く求めた「江東区平和都市宣言」を行っております。

ここに、江東区民を代表し、ロシア軍によるウクライナ攻撃<sup>こうげき</sup>に強く抗議し、ロシア軍のウクライナからの撤退<sup>てつたい</sup>と国際法に基づく誠意<sup>せいい</sup>を持った対応を強く求めます。

(一部抜粋)

令和4年(2022年)3月2日

江東区長 山崎孝明<sup>やまざき たかあき</sup>



〔問1〕下線部①に関連して、2022年9月、ウクライナでは今すぐに人道支援を必要としている子どもの数がウクライナ国内で300万人、避難先の国で220万人以上にものぼっています。こうした子どもたちと、その家族のための支援活動を主に扱う国連の専門機関として正しいものを次のア～エより1つ選び、記号で答えなさい。

ア. UNESCO    イ. WHO    ウ. UNICEF    エ. ILO

〔問2〕下線部②に関連して、地方自治は「民主主義の学校」と呼ばれるが、その理由を「身近」という語句を用いて説明しなさい。

〔問3〕下線部③は、守られるべきものであり、日本国憲法の第25条では「生存権」として保障されています。空らん  ~  にあてはまる語句をそれぞれ答えなさい。

すべて国民は、で的なの生活を営む権利を有する。

4 次の文章を読んで、あとの各問いに答えなさい。

代表的なファストフード店の一つと言え、ハンバーガーを世界中に普及させたマクドナルドが挙げられます。

1948年、アメリカ・カリフォルニア州でマクドナルド兄弟が始めた店がマクドナルドの原点です。調理を分業化することでスピーディーかつどの店舗でも同じ味とサービスを提供できるシステムを作り出し、誕生から8年で国内500店舗を達成しました。その後も海外への出店を推し進めていき、誕生からわずか60年たらずで、①世界100以上の国と地域に35,000店以上の店舗を構えることになりました。

日本に上陸したのは1971年。第1号店は、東京・銀座三越にオープンしました。1981年には国内300号店がオープンし、1991年には、外食産業初の年商2,000億円を達成しました。ちなみに、ほとんどの地域で赤色と黄色のシンボルカラーを店舗に使っていますが、②京都では茶色や黒色のパネルを使用しています。

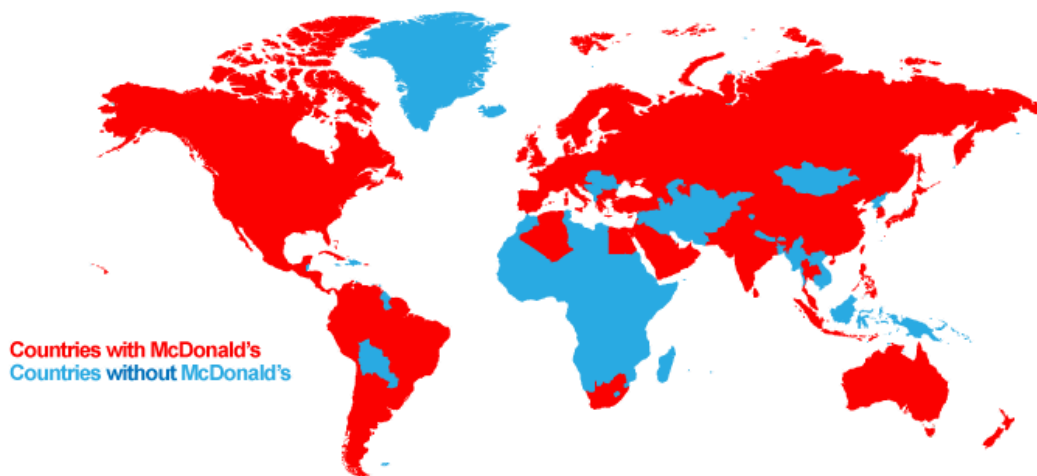
(マクドナルド公式ホームページより作成)

〔問 1〕 下線部①について、次の資料 1 ～ 4 から読み取ることができる内容として正しいものを、あとのア～エより 1 つ選び、記号で答えなさい。

< 資料 1 >

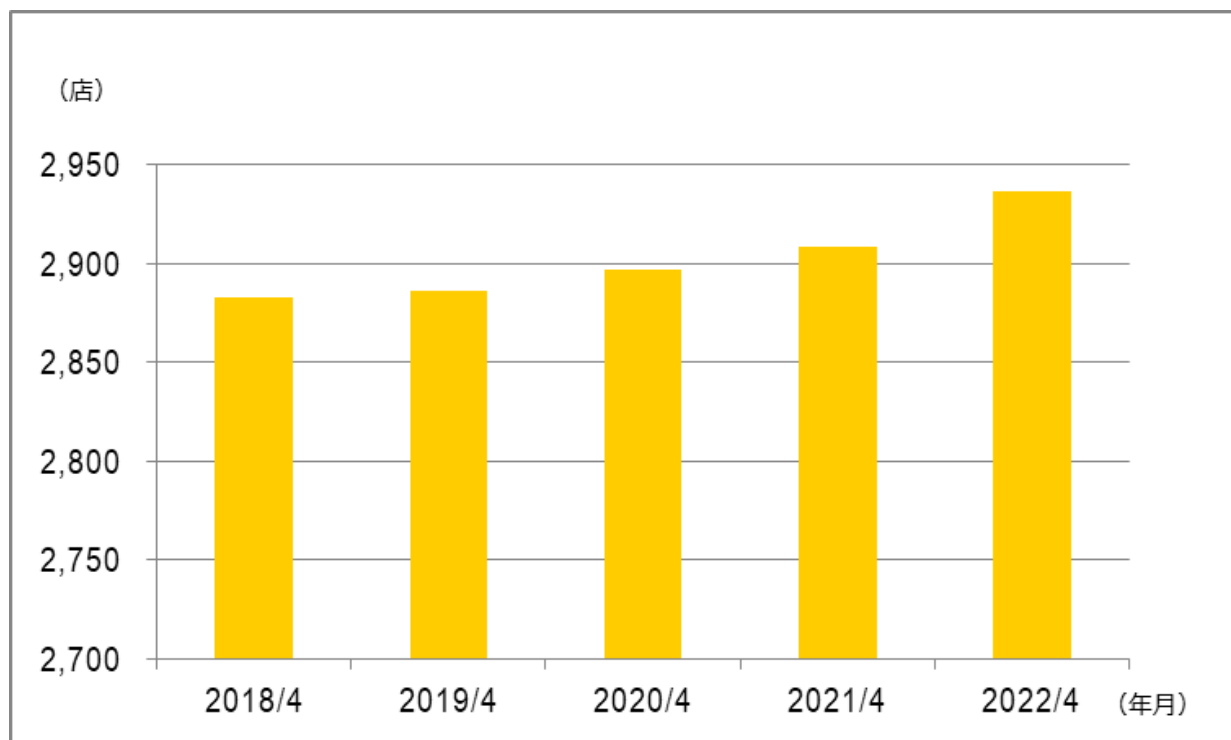
赤：マクドナルドが出店している地域

青：マクドナルドが出店していない地域



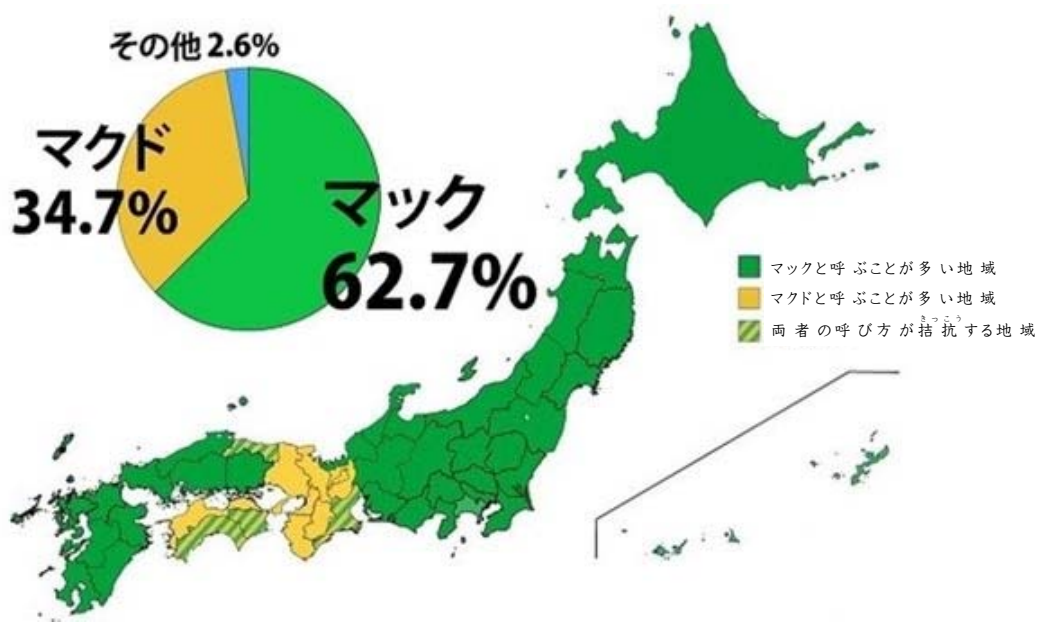
(McDonald's across the world より)

< 資料 2 > 日本のマクドナルドの店舗数の推移



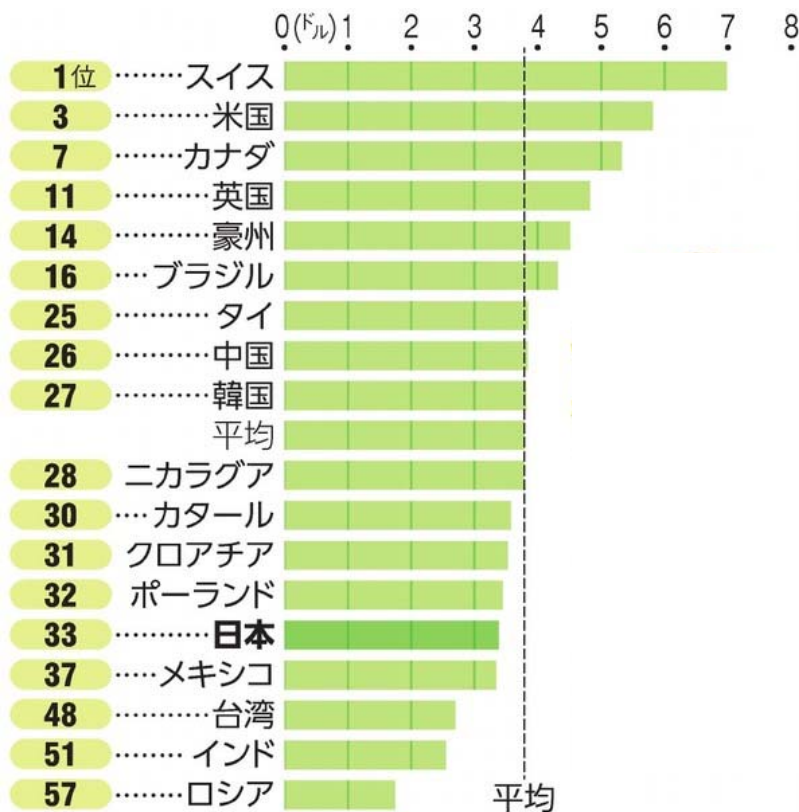
(日本ソフト販売株式会社ホームページより)

<資料3> 都道府県別マクドナルドの略称に関するアンケート  
(2016年)



(Jタウン研究所より)

<資料4> 世界のビッグマックの価格ランキング



(朝日新聞デジタルより)

- ア． アフリカ大陸にはマクドナルドは全く出店されていない。
- イ． 日本のマクドナルドの店舗数は2018年4月から増え続けている。
- ウ． マクドナルドの略称をマクドと呼ぶことが多い地域は近畿地方のみである。
- エ． 日本でのビッグマックの価格は世界と比べると平均以上である。

〔問2〕 下線部②に関連して、下の写真は東京都内と京都市内のマクドナルド店舗の看板の写真です。2つの写真を比較して、京都の店舗にはどのような規制が設けられていると考えられるか、その理由と合わせて説明しなさい。

<資料5> 東京都内と京都市内のマクドナルド店舗の看板



東京都内のマクドナルド



京都市内のマクドナルド

〔問3〕 あなたがマクドナルドなどのファストフード店を利用する際に、消費者としてフードロスの削減さく げんのためにできることはなにか。50字以内で答えなさい。

このページには問題は印刷されていません。