

2025年度  
入学試験問題

社 会

2月1日 午前

受験番号	氏名

中村中学校

1 次の文章を読んで、あとの各問いに答えなさい。

みなさんが小学校やそれ以前でやった①遊びにはどんなものがありましたか。日本各地には、さまざまな遊びがあります。その代表的なものには、「鬼<sup>おに</sup>ごっこ」がありますね。じつは同じように「鬼」がいる遊びでも、特定の地域に見られるものはいくつもあります。

たとえば東北には②「まよいみち」という遊びがあります。これは新雪の上に道を作り、その上で鬼ごっこをする遊びです。この遊びでは一般的な鬼ごっこと違い、雪に作った道に行き止まりがあり、そこに行く<sup>つか</sup>と鬼に捕まってしまいます。

「大根<sup>ね</sup>抜き」はやったことがある人もいるかもしれませんね。これは元々③北海道の遊びで、大根役と鬼役に分かれ、全員で腕<sup>うで</sup>を組んだ大根役を鬼役が引き抜いていく遊びです。

鬼が目隠<sup>めかく</sup>しをしている間に鬼に近づいていく「だるまさんが<sup>ころ</sup>転んだ」で遊んだことがある人も多いでしょう。この遊びは④関西の地域では「ぼうさんが<sup>へ</sup>尻をこいた」と言うこともあります。その他にも宮城県では「くるまんとんてんかん」、九州・中国・四国地方では「インド人の黒ん坊<sup>ぼう</sup>」、和歌山県では「ひみなこと」や「兵隊さんが通る」、⑤長野県では「命のくろんぼ」など、地域によってさまざまな呼び方があります。

「缶<sup>じやくち</sup>けり」に似た遊びとして香川県には「どんつき」という遊びがあります。缶の代わりに木や蛇口などの分かりやすいものを使い、鬼に見つからないようにそれに<sup>ふ</sup>触れる遊びです。

⑥関東地方には「てんてんばあらばら」という鬼ごっこに近い遊びがあります。これは、鬼以外が円形に手をつなぎ、その中央に鬼が立った状態から始まります。そして「てんてんばあらばら」と唱えながら手を引き合<sup>はな</sup>って上に上げ、そのあと手を離して逃げた人を鬼が捕まえます。

このように、鬼のいる遊びにも日本各地でさまざまな形があるのは、とても興味深いことですね。

〔問1〕下線部①の「遊び」の現代的なものに「マジカルバナナ」があります。この遊びは、前の人が出た言葉に関連した言葉を出していく遊びです。次は、その流れを書いたものです。空らんにあてはまる都道府県名を漢字で答えなさい。

赤い → りんご →  → <sup>つがる</sup>津軽塗

〔問2〕下線部②の「まよいみち」という遊びは、関東地方で行うには不向きな遊びです。その理由を説明した次の文章にある空らん  A にあてはまる語句を八方位かつ漢字で、空らん  B にあてはまる語句を、あとのア～エより1つ選び、記号で答えなさい。

関東地方では、冬に吹く風は  A の方角から吹き込むため、  
 B によって湿った風が遮られ、雪が降りづらいから。

ア. <sup>えちご</sup>越後山脈

イ. <sup>おうう</sup>奥羽山脈

ウ. <sup>きい</sup>紀伊山地

エ. <sup>ゆうばり</sup>夕張山地

〔問3〕下線部③の「北海道」では「大根抜き」にある大根や小麦、小豆<sup>あずき</sup>などを輪作する地域があります。この方法と最<sup>もっと</sup>も関係のある写真として正しいものを、次のア～エより1つ選び、記号で答えなさい。



(農林水産省ホームページより引用)

〔問4〕下線部④の「関西」にある県についての説明として正しいものを、次のア～エより1つ選び記号で答えなさい。

ア. 和歌山県には東海道新幹線が通っており、交通の要所となっている。

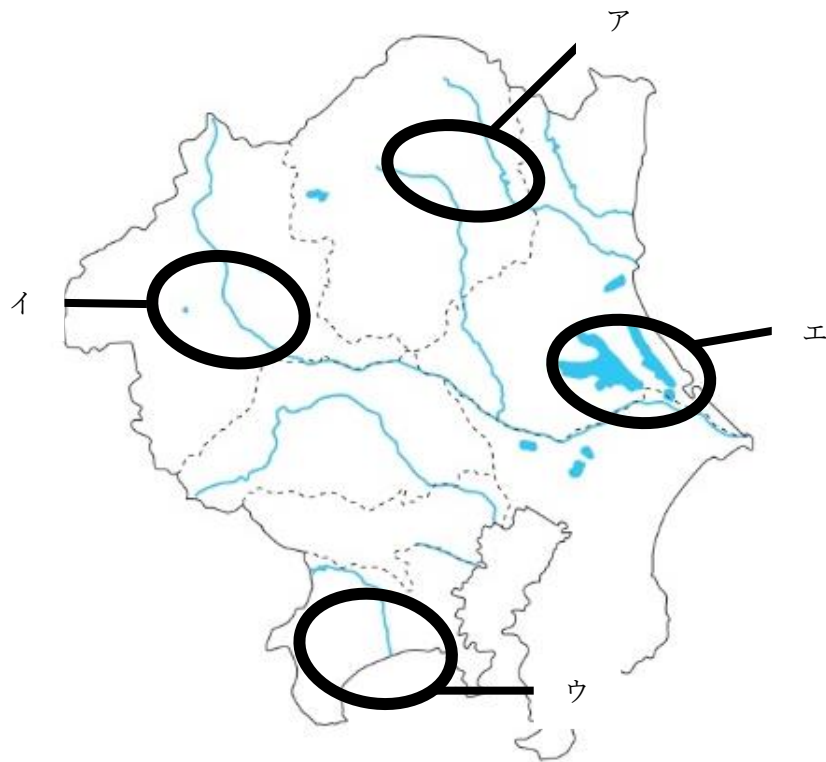
イ. 滋賀<sup>びわこ</sup>県の琵琶湖<sup>はいすい</sup>では生活排水が多く、汚染<sup>おせん</sup>を防ぐ努力が必要である。

ウ. 兵庫県<sup>さか</sup>の北側にある県庁所在地の神戸市では、カニ漁が盛んである。

エ. 奈良県にはリアス海岸があり、真珠<sup>しんじゆ</sup>やのりの養殖<sup>ようしょく</sup>で有名な県である。

〔問5〕下線部⑤の「長野県」にある諏訪湖<sup>すわ</sup>の周辺は、太平洋戦争の前と後で大きくその姿を変えました。その変化について「生糸」と「機械」という語句を用いて簡単に説明しなさい。

〔問6〕下線部⑥の「関東地方」は利根川<sup>とね</sup>をはじめとした複数の河川が流れており、その近くでは、水と親しんで生活をしてきた「水郷」<sup>すいごう</sup>と呼ばれる地域が見られます。水郷のある地域として正しいものを、次の地図中にあるア～エより1つ選び、記号で答えなさい。



2 次の日本の経済活動に関する表を読んで、あとの各問いに答えなさい。

時代	経済活動の歴史
旧石器	人々は欲しいものがあるときは、自分の持っているものと欲しいものを取りかえる①物々交換（交易）をして暮らしていた。 次第に、米・布・塩などがお金のような役割をはたすようになり、欲しいものがあるときは、米・布・塩などと交換するようになった。
②飛鳥	天武天皇の時に日本初の銅銭がつくられた。
奈良	③武蔵国の秩父（埼玉県）で銅が発見された。奈良の都には、全国各地から調や庸が運ばれた。これらの産物は、役人の給料に使われたほか、都の東と西に開かれた市で売買された。
平安	日本と宋との間でおこなわれた貿易では、日本からは硫黄や刀剣が輸出され、宋から宋銭や陶磁器などが大量に輸入された。
鎌倉・室町	④明と室町幕府との間に条約が結ばれ、貿易が始まった。明から輸入された銅銭は、人気があり全国で使われた。
安土・桃山	金銀の採掘が盛んになり、金山や銀山を手に入れた⑤戦国大名は、金貨や銀貨を作り始めた。豊臣秀吉は、金山や銀山を開発して支配下におき、京都・大阪・博多などの都市も直接支配した。
江戸	日米修好通商条約によって⑥海外との貿易が始まると日本経済に大きな影響を与えた。貿易の開始は、国内の経済や産業に大きな影響を与え、生活が苦しくなった人々は、徐々に不満を持ち始めた。
明治	日露戦争のため、増税に苦しんできた国民は、賠償金がとれなかったことなどから政府への不満を強め、各地で条約反対の集会が開かれた。東京の日比谷では、民衆が交番を焼き打ちする事件が起きた。
大正	第一次世界大戦中、ヨーロッパの国々に代わってアジアの各国に製品を輸出し、連合国にも軍需品をさかんに輸出した。輸出が大きく伸びたため、日本はかつてない好景気となった。
昭和	⑦高度経済成長がすすみ、所得倍増計画が発表された。1968年には、日本の国民総生産（GNP）が、資本主義国の中でアメリカに次いで第2位となり、日本は経済大国と呼ばれるようになった。

〔問1〕 下線部①に関連して、次の〈資料1〉は物々交換（交易）に使われたものです。この交易品について説明した次の文章にある空らん  にあてはまる語句を答えなさい。

〈資料1〉



〈資料1〉は、黒いガラスのような岩である黒曜石でつくられていて、主に狩猟しゅりょうに使われました。群馬県の  遺跡いせきで発掘され、その後の調査によって、日本に旧石器時代があったことが明らかになりました。

あいざわただひろ  
(相沢忠洋記念館公式ホームページより引用)

〔問2〕 下線部②の「飛鳥」時代のできごととして正しいものを、次のア～エより1つ選び、記号で答えなさい。

- ア. 坂上田村麻呂せいつたいしやうぐんを征夷大將軍に任命して、蝦夷えみしをおさえさせた。
- イ. 中国に使いを送り、皇帝から「漢委奴国王」かんのわのなのこくおうの金印を授けられた。
- ウ. 日本は百濟救援のため、朝鮮に兵をおくったが白村江はくそんこうの戦いに敗れた。
- エ. 唐とうの情勢悪化から、菅原道真が遣唐使を停止することを提案した。

〔問3〕 下線部③に関連して、奈良時代に流通した銅銭として正しいものを次のア～エより1つ選び、記号で答えなさい。

ア.



イ.



ウ.



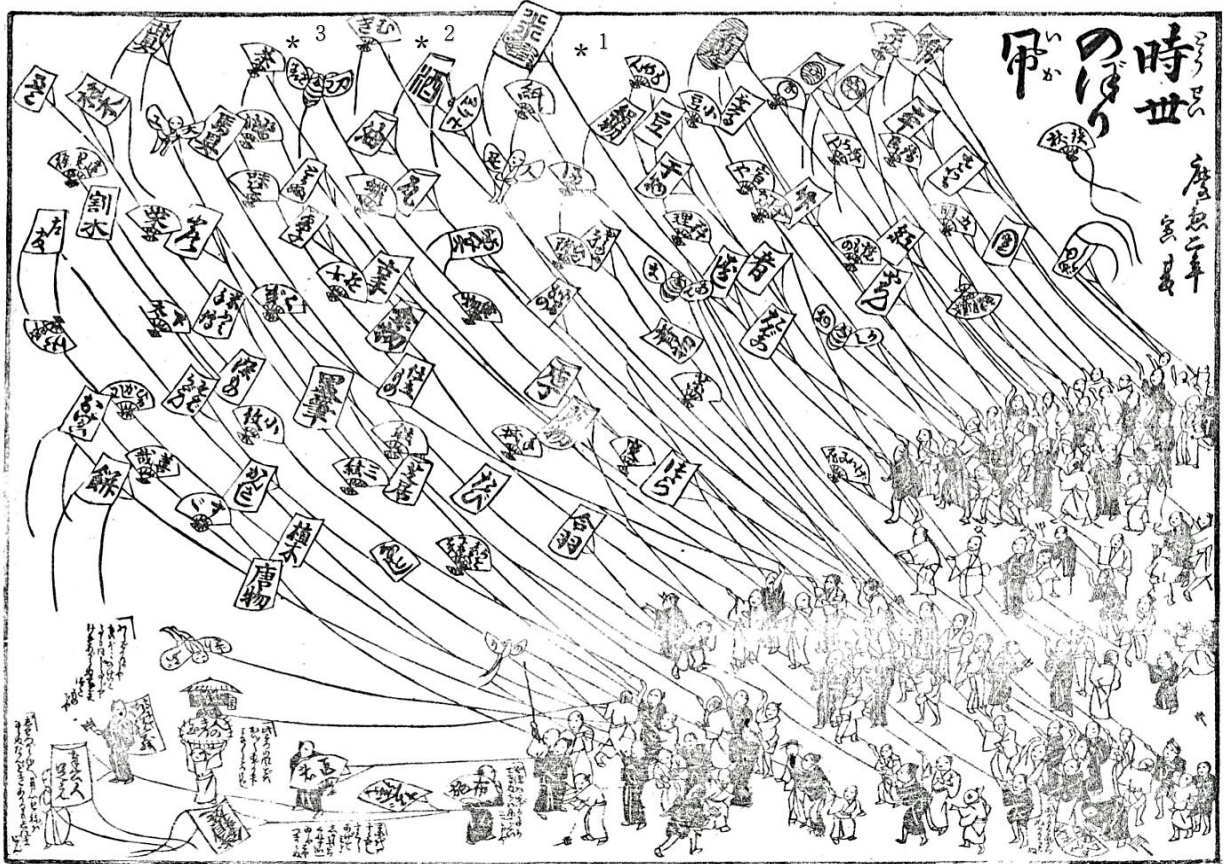
エ.



(貨幣博物館公式ホームページより引用)



〈資料3〉幕末の経済状況を表した風刺画 ふうし



\* 1 米      \* 2 麦      \* 3 茶

ほんじょうえいじろう いしん  
(本庄 栄治郎『幕末維新の諸研究』より引用)

〈資料4〉外国人が襲撃された事件 しゅうげき

年	できごと
1861年	日本語通訳をしていた、オランダ人のヒュースケンが薩摩藩士に暗殺された。 <small>はん</small>
1862年	横浜の生麦村で薩摩藩士が、行列を横切ったイギリス人らを斬りつけ殺傷した。 <small>なまむぎ さつしょう</small>
1863年	長州藩は、下関海峡を通る外国船を砲撃した。 <small>しものせきかいきょう ほうげき</small>

〔問7〕下線部⑦に関連して、次の空らん  にあてはまる語句を答えなさい。

1973年、第四次中東戦争をきっかけに  危機が起こると、高度経済成長は終わりを告げた。

3 中村中学校に通うあかりさんときよみさんが学校の教室で会話をしています。

次の会話や表を見て、あとの各問いに答えなさい。

あかり：おはよう。

きよみ：おはよう。あかりはいつも朝早く登校しているね。学校までどうやって来ているの。

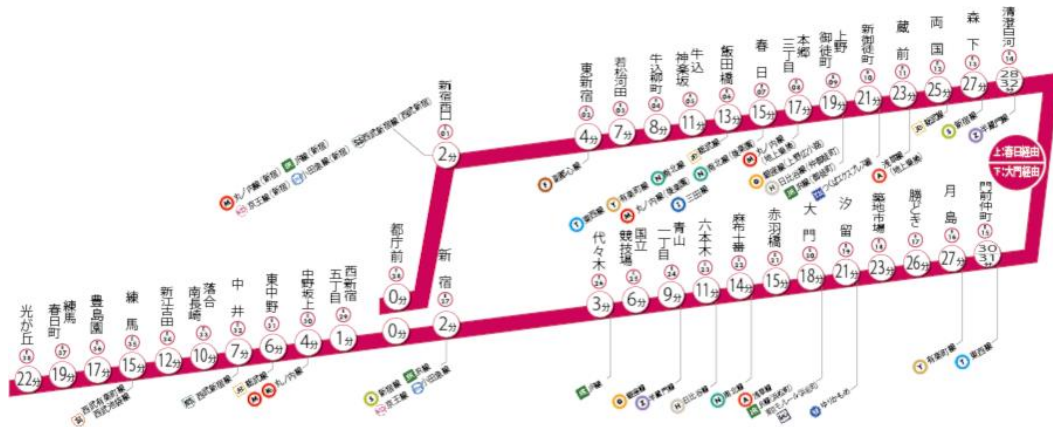
あかり：自宅からバスに乗って駅まで行き、地下鉄を利用しているよ。

きよみ：地下鉄は何線を使っているの。

あかり：都営大江戸線だよ。私、都営大江戸線の駅はそれぞれがおしゃれで好きなんだよね。

きよみ：都営大江戸線ってどんな路線なのかな。

あかり：都営大江戸線は、①東京都交通局が運行する地下鉄の1つで、2000年に全線が開業したんだって。



(東京都交通局ホームページより)

きよみ：ほら、この図を見て。新宿や六本木といった<sup>しんじゅく ろっぽんぎ</sup>繁華街だけでなく、<sup>はんかがい</sup>練馬や<sup>ねりまもん</sup>門前仲町などの住宅街や下町も通っていて便利だよ。

あかり：知ってる。大江戸線にはすべての駅にそれぞれの駅のスタンプが設置されているんだよ。

きよみ：知らなかった。<sup>きよすみしらかわ</sup>②清澄白河駅のスタンプはどんなスタンプなのかな。

あかり：このスタンプを見て。東京都現代美術館と清澄庭園をイメージしたものになっているよ。

きよみ：すべての駅のスタンプを集めたいな。大江戸線は駅のデザインがそれぞれ違うのも面白いね。

あかり：じつは<sup>ひかり おか</sup>③光が丘駅のさらに先に路線を<sup>えんしん</sup>延伸するかどうか、地方議会で議論されているよ。

きよみ：実現したら東京はもっと暮らしやすい街になるね。今後も注目していこう。



〔問1〕 下線部①の「東京都交通局」に関連して、次の〈資料1〉を見て、この取り組みによって侵害<sup>しんがい</sup>される可能性がある人権として正しいものを、あとのア～エより1つ選び、記号で答えなさい。

〈資料1〉 都営地下鉄の全車両内に防犯カメラを設置します



東京都交通局では、昨今発生している地下鉄車両内でのいたずらや迷惑<sup>めいわく</sup>行為等、犯罪行為の未然防止のほか、テロ対策等に向けたさらなるセキュリティ強化を図るため、下記のとおり、都営地下鉄車両の更新<sup>こうしん</sup>に合わせて、全車両内に防犯カメラを順次設置していくこととしましたので、お知らせします。

(2017年3月14日 都営地下鉄ニュースより)

- |              |         |
|--------------|---------|
| ア. プライバシーの権利 | イ. 知る権利 |
| ウ. 環境権       | エ. 参政権  |

〔問2〕 下線部②の「清澄白河駅」に関連して、大江戸線の麻布十番駅と清澄白河駅には、緊急時用の東京都の防災備蓄倉庫が設けられています。なぜ地下鉄の駅に倉庫が設置されているのか、次の〈資料2〉を参考にしてその理由を答えなさい。

〈資料2〉 地震災害発生時に緊急交通路になることを表した案内板



大規模災害発生時において、災害応急対策が的確かつ円滑におこなわれるようにするために、パトカー（白バイ）や消防車、救急車といった緊急自動車を除き、一般車両の通行が制限・禁止される道路に表示される。

〔問3〕 下線部③に関連して、次の空らん  にあてはまる語句を漢字4字で答えなさい。

一定の地域の住民が、自分たちの地域の政治を自分たちで行う地方自治は、 の学校といわれています。これは地方の身近な問題について考えることを通じて  を学び、国の政治にも関心をもつようになると考えられるからです。

このページには問題は印刷されていません

4 次の文章を読んで、あとの各問いに答えなさい。

2024年10月より、各都道府県の「最低賃金」(時給)が改定されました。7月末に厚生労働省が全国一律50円の引き上げを求める「目安」をまとめていましたが、今年はその目安を上回る引き上げを行った県が実に27に及びました。今後、最低賃金の大幅引き上げが、パートやアルバイトなど非正規のみならず、正規の従業員の賃上げに拍車をかければ、岸田文雄前首相が就任以来掲げてきた「物価上昇を上回る賃上げ」につながってくる可能性もあります。

〔問1〕次の〈資料1〉〈資料2〉から読み取れるものとして正しいものを、あとのア～エより1つ選び、記号で答えなさい。

〈資料1〉 都道府県ごとの人口(単位:万人)



(総務省統計局ホームページより作成)

〈資料2〉都道府県ごとの最低賃金\*1一覧（2023・2024年、単位：円）

	2023年度	2024年度			2023年度	2024年度
北海道	960	1010		滋賀県	967	1017
青森県	898	953		京都府	1008	1058
岩手県	893	952		大阪府	1064	1114
宮城県	923	973		兵庫県	1001	1052
秋田県	897	951		奈良県	936	986
山形県	900	955		和歌山県	929	980
福島県	900	955		鳥取県	900	957
茨城県	953	1005		島根県	904	962
栃木県	954	1004		岡山県	932	982
群馬県	935	985		広島県	970	1020
埼玉県	1028	1078		山口県	928	979
千葉県	1026	1076		徳島県	896	980
東京都	1113	1163		香川県	918	970
神奈川県	1112	1162		愛媛県	897	956
新潟県	931	985		高知県	897	952
富山県	948	998		福岡県	941	992
石川県	933	984		佐賀県	900	956
福井県	931	984		長崎県	898	953
山梨県	938	988		熊本県	898	952
長野県	948	998		大分県	899	954
岐阜県	950	1001		宮崎県	897	952
静岡県	984	1034		鹿児島県	897	953
愛知県	1027	1077		沖縄県	896	952
三重県	973	1023		全国	1004	1055

\* 1 最低賃金 …… 使用者（給与を支払う側）が労働者に支払わなければならない賃金の最低額を定めた制度。時給換算<sup>かんさん</sup>での表示となっている。

（厚生労働省「地域別最低賃金の全国一覧」より作成）

- ア. 北海道を除き、6つのそれぞれの地方の中で最も人口の多い都府県が2024年の最低賃金も高い。
- イ. 政令指定都市がある都道府県は、2024年にすべて最低賃金が1,000円を超えている。
- ウ. 関東地方では、2023年から2024年にかけて最低賃金はいずれも50円増額となっている。
- エ. 人口が最も多い都道府県は最低賃金が一番高く、逆に人口が最も少ない県は最低賃金が一番低い。

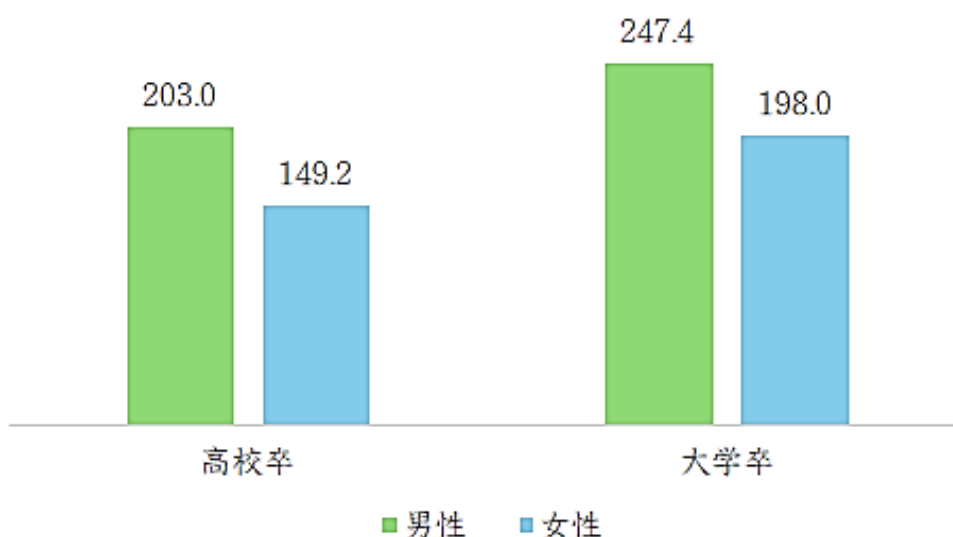
〔問2〕 〈資料3〉 〈資料4〉 から読み取れることを、〈資料2〉 の内容をふまえて説明しなさい。

〈資料3〉 都道府県別で見る大学進学率上位7都府県

	男女合計	男子	女子
京都府	73.0	72.0	74.1
東京都	72.8	70.8	74.7
神奈川県	68.1	68.2	68.0
大阪府	67.6	67.8	67.4
兵庫県	67.1	65.5	68.6
埼玉県	64.6	65.3	63.9
広島県	64.6	62.7	66.6
全国平均	60.8	59.4	62.1

(文部科学省「学校基本調査(2023年)」より作成)

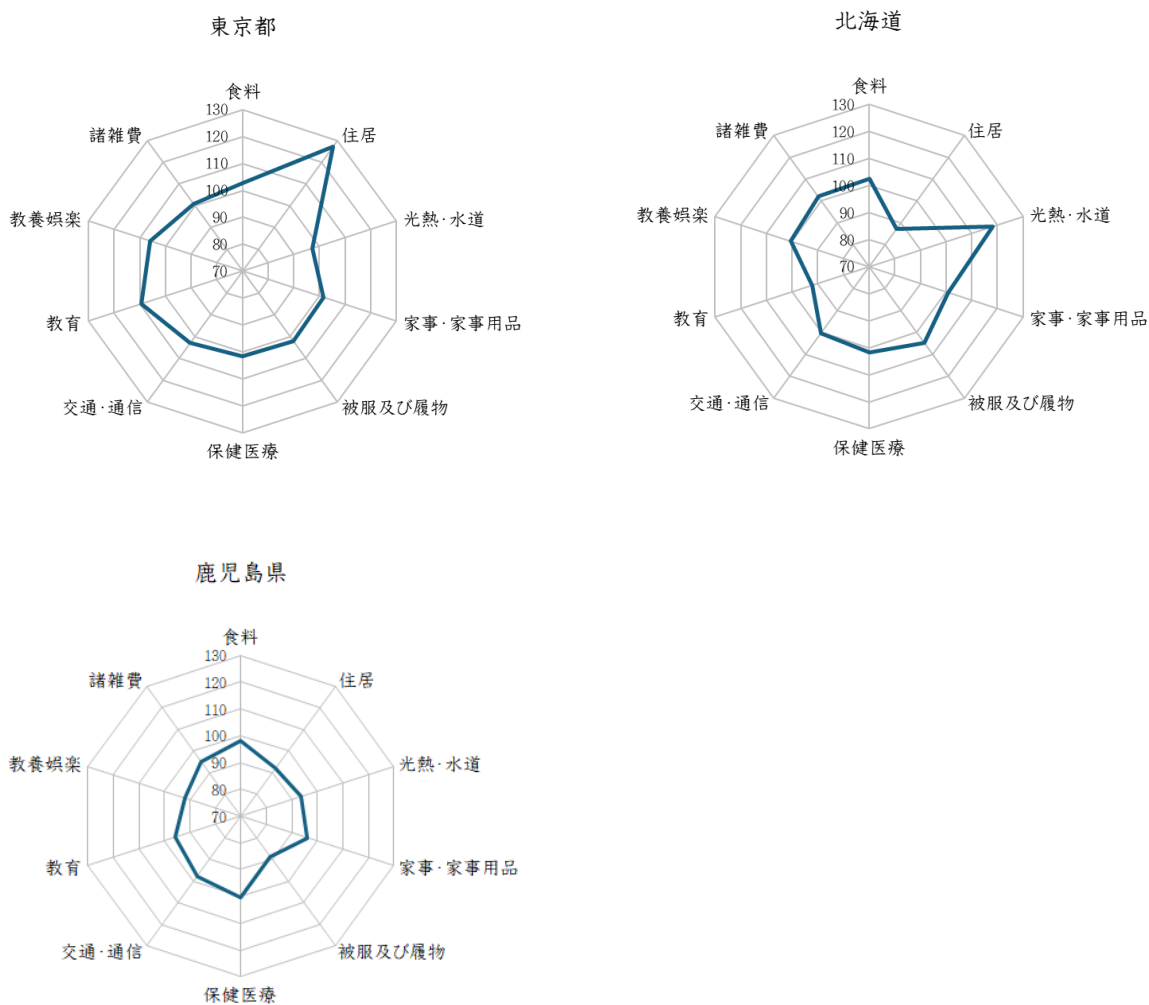
〈資料4〉 高校卒と大学卒の生涯賃金の差しょうがい(単位：百万円)



(ユースフル労働統計2023より作成)

〔問3〕「東京都」「北海道」「鹿児島県」の消費者物価指数<sup>\*2</sup>を費目別に示した次のグラフより、読み取ることができる内容を3つの都道県を比較しながら解答らん<sup>ひかく</sup>に合うように説明しなさい。

〈資料5〉 10大費目別消費者物価指数



(総務省統計局「小売物価統計調査(構造編)2023年結果」より作成)

\*2 消費者物価指数…全国の世帯が購入<sup>こうにゆう</sup>する財やサービスの価格の平均的な変動を測定するものである。全国平均を100とし、全国平均より多ければ100以上、少なければ100未満となる。

